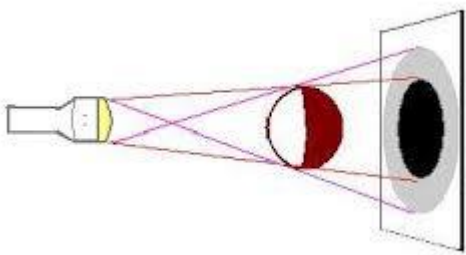
	QUIZ ACUMULATIVO DE FÍSICA	Anexo 09 A FP PC 02 Revisión 0
---	--	---------------------------------------	--

Depto: Ciencias.

Nombre profesor: Verónica Villegas

Nombre: Curso:..... Fecha:


I. Según la figura:





- a) La luz se propaga en línea
.....
- b) Los colores se ven porque la luz se
.....



II. La imagen que vemos grafica la Teoría..... De la luz, propuesta por




III. Dibuja un átomo de Bohr en el cual hayan dos electrones que absorben energía.

		QUIZ ACUMULATIVO DE FÍSICA	Anexo 09 A FP PC 02 Revisión 0
---	--	---------------------------------------	--------------------------------------

Depto: Ciencias.

Nombre profesor: Verónica Villegas


Nombre: Curso:..... Fecha:




I. Según la figura:

a) La sombra es.....

b) Para generar una sombra se debe entre una y una superficie.



II. La imagen que vemos grafica la Teoría..... De la luz, propuesta por



III. Dibuja un átomo de Bohr en el cual hayan tres fotones liberando energía.